



Service public de Wallonie - Agriculture, Ressources naturelles et Environnement
Département de la nature et des forêts
Direction de la chasse et de la pêche

Examen de chasse 2023

Epreuve théorique
Seconde session

Recueil des questions

Ce cahier se compose de 60 questions numérotées. S'il est incomplet, demandez à l'échanger auprès d'un surveillant.

Rappel :

Une réponse exacte vous donne droit à un point (**+1**)

Une réponse inexacte ou l'absence de réponse n'entraîne ni bonus ni malus (**0**)

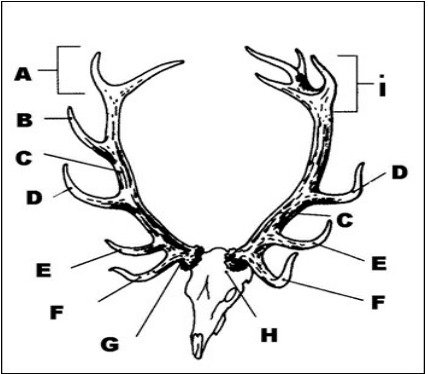
Bon examen !

BRANCHE I - Connaissance de la réglementation sur la chasse et la conservation de la nature (questions n° 1 à 15)




| | | | | |
|----|---------------------------------------------------------------------------------------------------------------------------------------------------------------------------------------------------------------------|-------------------------------------------------------------------------------------|----------------------------------------------------------------------------------------------------------------------------------|--------------------------------------------------------------------------------------------------------------------|
| 1. | Comment la loi sur la chasse définit-elle de façon complète l'acte de chasse ? | a) L'action consistant à capturer ou tuer un gibier en utilisant les moyens légaux. | b) L'action consistant à capturer ou tuer un gibier, de même que celle consistant à le rechercher ou à le poursuivre à ces fins. | c) L'action consistant à capturer ou tuer un gibier, de même que celle consistant à le détenir en vue d'un lâcher. |
| 2. | Combien de catégories de gibiers existe-t-il selon la loi sur la chasse ? | a) 2 | b) 3 | c) 4 |
| 3. | Le Gouvernement fixe pour chaque catégorie, espèce, type ou sexe de gibier et pour chaque mode et procédé de chasse, les dates de l'ouverture, de la clôture ou de la suspension de la chasse | a) annuellement. | b) pour une période de 3 ans. | c) pour une période de 5 ans. |
| 4. | La chasse en battue est autorisée | a) depuis le lever officiel du soleil jusqu'au coucher officiel du soleil. | b) depuis une demi-heure avant le lever officiel du soleil jusqu'à une demi-heure après le coucher officiel. | c) depuis une heure avant le lever officiel du soleil jusqu'à une heure après le coucher officiel. |
| 5. | La chasse à tir est interdite sur toute partie d'un territoire, quelle que soit la superficie de celui-ci, lorsque les dimensions de cette partie ne permettent pas d'y inscrire un cercle d'un rayon de minimal de | a) 25 mètres. | b) 50 mètres. | c) 100 mètres. |
| 6. | La chasse du lapin est-elle autorisée sur un territoire de chasse de moins de 25 ha ? | a) oui, dans tous les cas. | b) non, dans aucun cas. | c) oui, s'il s'agit d'une chasse uniquement à l'aide de bourses et de furets. |

| | | | | |
|-----|--------------------------------------------------------------------------------------------------------------------------------------------------------------------|------------------------------------------------------------------------------------------------------|------------------------------------------------------------------------------------------------|-------------------------------------------------------------------------------|
| 7. | Il est autorisé d'occuper, avec une arme, un mirador situé à moins de deux cents mètres d'un lieu de nourrissage artificiel du gibier pour y chasser et y détruire | a) uniquement le grand gibier. | b) le grand gibier et le Renard. | c) uniquement le Sanglier. |
| 8. | Tout acte de chasse à partir d'un véhicule à moteur est | a) autorisé. | b) soumis à autorisation, ainsi qu'au respect de certaines conditions. | c) interdit. |
| 9. | La corneille noire est une espèce | a) gibier, dont la chasse est fermée. | b) protégée, dont la destruction peut être autorisée sous certaines conditions. | c) strictement protégée. |
| 10. | L'apposition d'un bracelet entre le tendon et l'os d'une des pattes arrières de l'animal est exigée | a) pour le transport de tout grand gibier en Région wallonne, quelle que soit l'origine de celui-ci. | b) pour le transport de tout grand gibier tiré sur un territoire de chasse en Région wallonne. | c) uniquement pour le transport d'un Cerf tiré en application du plan de tir. |
| 11. | Lequel de ces aliments peut être utilisé pour le nourrissage dissuasif du Sanglier ? | a) La betterave. | b) Les tourteaux. | c) L'orge. |
| 12. | Laquelle des 3 armes suivantes peut être utilisée pour chasser le Lièvre en Région wallonne ? | a) Un fusil « à pompe » d'un calibre 20. | b) Une carabine d'un calibre .22. | c) Une carabine d'un calibre de 6,5 mm. |
| 13. | Lequel de ces 3 pièges ne peut jamais être utilisé pour détruire le Renard ? | a) Le piège à lacets. | b) Le collet sans arrêtoir. | c) La boîte à fauves. |
| 14. | Indiquez parmi les animaux cités ci-après celui qui est protégé par la loi sur la conservation de la nature. | a) L'Hermine. | b) Le Chat sylvestre (Chat sauvage). | c) L'Oie des moissons. |
| 15. | Durant l'actuelle saison cynégétique, la chasse de la poule faisane pouvait se pratiquer | a) du 1 ^{er} septembre au 30 novembre. | b) du 1 ^{er} septembre au 31 décembre. | c) du 1 ^{er} octobre au 31 janvier. |

BRANCHE II - Connaissance du gibier, des animaux sauvages et des chiens de chasse (questions n° 16 à 45)

| | | | |
|-------------------------------------------------------------------------------------------------------------------------------------------------------------------------------------------------------------------------|-------------------------------------------------------------------------------------------------------------|-------------------------------------------------------------------------------------------------------------|-------------------------------------------------------------------------------------------------------------|
| <p>16. Sur ce dessin représentant un trophée de Cerf, où se situe le merrain ?</p>  | <p>a) En C.</p> | <p>b) En D.</p> | <p>c) En E.</p> |
| <p>17. Le cerf consomme en moyenne sur l'année</p> | <p>a) 1/3 de plantes herbacées et 2/3 de plantes ligneuses ou semi-ligneuses (ronces, framboisiers...).</p> | <p>b) 1/2 de plantes herbacées et 1/2 de plantes ligneuses ou semi-ligneuses (ronces, framboisiers...).</p> | <p>c) 2/3 de plantes herbacées et 1/3 de plantes ligneuses ou semi-ligneuses (ronces, framboisiers...).</p> |
| <p>18. Le sanglier éprouve le plus de difficultés</p> | <p>a) lorsque le sol est couvert d'une couche de neige de 30 à 40 cm.</p> | <p>b) en période de gel prolongé.</p> | <p>c) lorsque les températures dépassent 20°C.</p> |
| <p>19. La laie est fécondable</p> | <p>a) à partir de l'âge de 2 ans.</p> | <p>b) dès qu'elle atteint un poids de l'ordre de 30 à 40 kg.</p> | <p>c) dès qu'elle devient la laie meneuse de la compagnie.</p> |
| <p>20. Dans un territoire ardennais où la densité en chevreuils au printemps (soit après la chasse mais avant les naissances) dépasse les 20 animaux aux 100 hectares de bois, la gestion des prélèvements visera à</p> | <p>a) augmenter la population.</p> | <p>b) maintenir la population à son niveau actuel.</p> | <p>c) diminuer la population.</p> |

| | | | | |
|-----|---------------------------------------------------------------------------------------|-------------------------------------------------------------------|------------------------------------------------------------------------------------------------------|-------------------------------------------------------------------------------|
| 21. | La hauteur au garrot (jonction du cou et du dos) d'un chevreuil adulte se situe entre | a) 60 et 80 cm. | b) 80 et 100 cm. | c) 100 et 120 cm. |
| 22. | Chez le Mouflon, | a) seuls les mâles portent des cornes. | b) les animaux des deux sexes portent toujours des cornes. | c) les mâles et certaines femelles portent des cornes. |
| 23. | Indiquez l'affirmation correcte pour une hase (femelle du Lièvre). | a) Elle a une seule portée annuelle de 3 jeunes. | b) Elle a en moyenne 3 à 4 portées annuelles de 2 à 4 jeunes. | c) Elle a en moyenne 4 à 6 portées annuelles de 4 à 6 jeunes. |
| 24. | En Wallonie, le Lièvre est une espèce | a) sédentaire. | b) erratique. | c) migratrice. |
| 25. | Aménager un territoire en faveur du Faisan | a) est incompatible avec le maintien d'une population de perdrix. | b) peut s'accompagner d'une augmentation des populations de perdrix, de lièvres ou d'autres espèces. | c) nécessite toujours l'installation de volières sur le territoire de chasse. |
| 26. | Chez le Faisan de Colchide, l'adulte se nourrit | a) de végétaux et de divers petits animaux. | b) uniquement de graines et d'herbes. | c) uniquement d'insectes. |
| 27. | La Perdrix grise est une espèce | a) indigène en Wallonie. | b) introduite en Wallonie. | c) ayant naturellement colonisé la Wallonie au 19ème siècle. |
| 28. | Déterminer la réussite de la reproduction chez la Perdrix | a) n'a pas d'intérêt pour un gestionnaire. | b) se fait idéalement par pesée des cristallins des oiseaux prélevés à la chasse. | c) se fait par comptage des jeunes et des adultes après les moissons. |
| 29. | Le sens de la vue chez la Bécasse | a) lui permet de voir et d'être active de jour comme de nuit. | b) ne lui permet pas de voir correctement de nuit. | c) ne lui permet pas de voir de nuit sauf les nuits de pleine lune. |
| 30. | En Belgique, la Sarcelle d'hiver peut être observée | a) uniquement en hiver. | b) uniquement en été. | c) toute l'année. |
| 31. | Le Renard a généralement | a) une portée par an. | b) deux portées par an. | c) trois portées par an. |

| | | | | |
|-----|----------------------------------------------------------------------------------------------|---------------------------------------------------------------------------------------------------|---------------------------------------------------------------------------------------------------|-------------------------------------------------------------------------------------------------|
| 32. | Pour sa nidification, le pigeon ramier | a) utilise volontiers les anciens terriers de lapin. | b) utilise le plus souvent d'anciens nids de corneilles et de pies. | c) utilise volontiers les haies denses constituées d'arbres ou d'arbustes à couvert bas. |
| 33. | Les éboulis, vieilles granges, fenils, greniers... sont surtout fréquentés par | a) la Belette. | b) la Fouine. | c) la Martre. |
| 34. | Quelle silhouette ne correspond pas au nom de l'espèce d'oiseau indiqué au-dessus ? | a) Perdrix.  | b) Pigeon.  | c) Buse.  |
| 35. | Parmi les pratiques agricoles citées ci-après, indiquez la plus défavorable au petit gibier. | a) Effectuer une récolte mécanisée de céréales la nuit. | b) Fertiliser une parcelle avec des engrais organiques. | c) Effaroucher le petit gibier à l'aide de chiens avant tout traitement chimique des cultures. |
| 36. | Laquelle de ces maladies est transmissible à l'homme ? | a) La peste porcine. | b) La trichinose. | c) La coccidiose. |
| 37. | Cet oiseau est | a) un grand cormoran. | b) un harle huppé. | c) un harle bièvre. |
| 38. | Cet oiseau est | a) un grèbe castagneux. | b) un grèbe à cou noir. | c) un grèbe huppé. |
| 39. | Cet animal est | a) une biche. | b) une daine. | c) une chevrette. |
| 40. | Ce rapace diurne est | a) un faucon pèlerin. | b) un faucon émerillon. | c) un faucon crécerelle. |
| 41. | Cet oiseau est | a) un pigeon ramier. | b) un pigeon biset. | c) un pigeon colombin. |
| 42. | Cet animal est | a) un jeune lièvre. | b) un jeune lapin. | c) un lapin adulte. |

| | | | | |
|-----|-----------------|---------------------|-------------------------|------------------------------|
| 43. | Cet oiseau est | a) une oie cendrée. | b) une oie rieuse. | c) une ouette d'Egypte. |
| 44. | Ce chien est un | a) un basset. | b) un rouge de Bavière. | c) un chien de saint Hubert. |
| 45. | Cet animal est | a) un putois. | b) un chien viverrin. | c) un blaireau. |

BRANCHE III - Connaissance des armes, munitions et éthique de la chasse (questions n° 46 à 60)

| | | | | |
|-----|----------------------------------------------------------------------------------------------------------|---------------------------------------------------------------|----------------------------------------------------|-----------------------------------------|
| 46. | Lequel de ces 3 fusils tire les cartouches de plus faible diamètre ? | a) Fusil calibre 16. | b) Fusil calibre 20. | c) Fusil calibre 24. |
| 47. | Laquelle des 3 pièces suivantes ne fait pas partie du mécanisme de percussion d'un fusil ? | a) Le chien. | b) La gâchette. | c) La bascule. |
| 48. | Un rétrécissement à la bouche de 0,9 mm du diamètre interne du canon d'un fusil correspond à un | a) 1/4 choke. | b) 1/2 choke. | c) full ou plein choke. |
| 49. | Un fusil de chasse basculant ne possède pas de | a) clé d'ouverture. | b) culasse mobile. | c) pontet. |
| 50. | Toutes autres choses restant égales, plus le numéro des plombs est petit, plus les plombs | a) vont loin. | b) sont nombreux dans la cartouche. | c) sont petits. |
| 51. | Indiquez l'élément qui fait partie d'une cartouche de carabine. | a) La bourre. | b) La douille. | c) Le percuteur. |
| 52. | Désignez le plus gros des calibres suivants. | a) 7 X 64. | b) 8 X 57 JRS. | c) .300 Winchester Magnum. |
| 53. | Le "stecher" est un dispositif qui permet | a) d'accroître la sensibilité de la détente au moment du tir. | b) de réduire le recul de l'arme au moment du tir. | c) d'accroître la portée du projectile. |

| | | | | | | | |
|-----|----------------------------------------------------------------------------------------------------------------------------------------------|----|--------------------------------------------------|----|--------------------------------------------------------------------|----|-------------------------------------------------------------------------------|
| 54. | En cas de tir non fichant et en l'absence d'obstacle, la portée d'une balle de carabine de chasse | a) | ne dépasse pas 200 mètres. | b) | est un peu inférieure au kilomètre. | c) | dépasse le kilomètre. |
| 55. | Une cartouche à balle 9,3 x 74 R est une cartouche | a) | à "gorge". | b) | à "bourrelet". | c) | dont la charge en poudre est renforcée. |
| 56. | Indiquez parmi les 3 lunettes de tir suivantes celle qui possède le plus fort grossissement. | a) | 7 x 50 | b) | 8 x 56 | c) | 10 x 42 |
| 57. | Lorsque l'on tire à balle sur du gibier en mouvement à une cinquantaine de mètres, la correction de tir à faire avec une carabine est | a) | plus importante que celle à faire avec un fusil. | b) | nettement moindre que celle à faire avec un fusil. | c) | pratiquement la même que celle à faire avec un fusil. |
| 58. | Quel type de munition devrais-je privilégier pour le tir d'un chevreuil à 100 m, si par ailleurs je suis assuré de réaliser un tir fichant ? | a) | Une balle de carabine. | b) | Une balle de fusil à canon lisse (de type "Brenneke" par exemple). | c) | Une cartouche à grains métalliques. |
| 59. | Parmi les attitudes suivantes, laquelle est <u>peu</u> éthique ? | a) | Tirer à l'affût sur un grand gibier à l'arrêt. | b) | Tirer le jeune et puis la mère. | c) | Attendre que le gibier s'éloigne avant de tirer, pour lui donner sa "chance". |
| 60. | En action de chasse, pour fermer mon fusil en toute sécurité, | a) | je relève les canons. | b) | je relève la crosse. | c) | je relève indifféremment les canons ou la crosse. |